

2006-07 Öğretim Yılı
Merkezi Ölçme-Değerlendirme
I.Dönem Sonu

7.Sınıf Sosyal Bilgiler (Coğrafya -Tarih) Ders Sınavı

Sınav Başlama Saati:08:30

Tarih:16 Ocak 2007

İsim/ Soy isim:.....

Sınıf:.....

Sorular

1. Güneşin doğudan doğup batıdan batmasının nedeni nedir?

- A) Dünya'nın kutuplardan basık olması.
- B) Dünya'nın ekvatorundan şişkin olması
- C) Dünya'nın doğudan batıya doğru dönmesi.
- D) Dünyanın batıdan doğuya doğru dönmesi.

2. Aşağıdakilerden hangisi güneşe ait özelliklerden biri *değildir*?

- A) Dünyaya en yakın olan yıldızdır.
- B) Çevresine ısı ve ışık yayar.
- C) Güneş dünyanın etrafında dönüğü için mevsimler oluşur.
- D) Etrafında dönen dokuz gezegenle güneş sistemini oluşturur.

3, 4 ve 5. soruları aşağıdaki çizim 1'den yararlanarak cevaplayınız.



3. Verilen noktalardan hangisinde güneş en son doğar?

- A) 1
- B) 2
- C) 3
- D) 4

4. Aralarındaki yerel saat farkının en çok olduğu iki nokta, aşağıdaki seçeneklerden hangisinde doğru olarak verilmiştir?

- A) 1,2
- B) 2,3
- C) 3,4
- D) 1,4

5. Öğle vaktini aynı anda yaşayan iki nokta aşağıdaki seçeneklerden hangisinde doğru olarak verilmiştir?

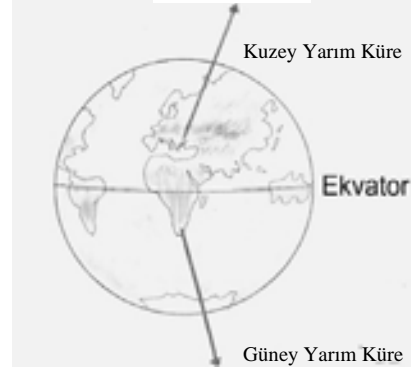
- A) 1,2
- B) 2,3
- C) 3,4
- D) 1,4

6. ve 7. soruları yandaki çizim 2'ye göre cevaplayınız.



6. Kuzey ve Güney Yarım Kürelerdeki durumlar aşağıdaki tarihlerden hangisinde yaşanmaktadır?

- A) 21 Haziran
- B) 23 Eylül
- C) 21 Aralık
- D) 21 Mart



7. Kuzey ve Güney Yarım Kürelerde aynı tarihte farklı mevsimlerin yaşanmasının nedeni nedir?

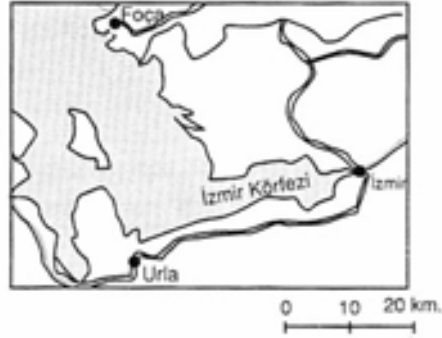
- A) Dünyanın kendi eksenini etrafında dönmesi.
- B) Ekvatorun dünyayı kuzey ve güney olarak iki yarımküreye ayırması.
- C) Dünyanın yıllık hareketi ve eksen eğikliği.
- D) Dünya Ekseninin kutuplardan geçmesi.



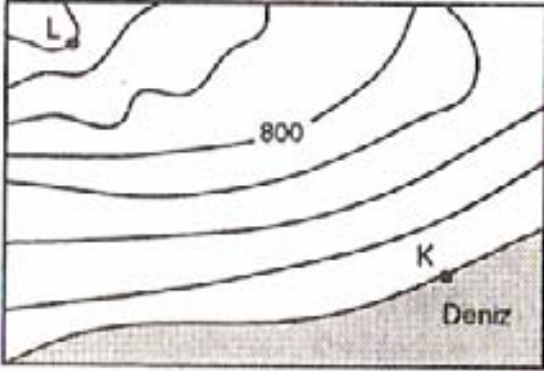
Çizim 2

8. Yandaki haritaya göre, Urla – İzmir arasındaki kuş uçuşu uzaklığı yaklaşık kaç km dir?

- A) 50
- B) 40
- C) 30
- D) 20



9 ve 10. soruları aşağıdaki haritaya göre cevaplayınız.



9. K ve L arasındaki yükselti farkı kaç metredir?

- A) 800 B)1000 C)1200 D) 1400

10. Aşağıdaki yargılardan hangisi yanlıştır?

- A) İzohipsler birbirleriyle kesişmezler.
B) Başlangıç eğrisi deniz seviyesinden başlamaktadır.
C) 800 m izohipsi ile K arasında eğim daha fazladır.
D) 800 m izohipsi ile L arasında eğim daha fazladır.

11. Osmanlı Beyliğinin ilk zamanlarda Anadolu'daki Türk Beyliklerinin en zayıflarından biri olmasına rağmen kısa zamanda büyük bir devlet haline gelmesinde aşağıdakilerden hangisi etkili olmamıştır?

- A) Devlet yöneticilerinin yetenekli olması.
B) Merkezi otoritenin güçlü olması.
C) Bizans ile dost geçinmesi.
D) Coğrafi konumun elverişli olması.

12. Osmanlı Devleti kuruluş döneminde meydana gelen;

- Divan teşkilatının kurulması,
- Düzenli ordunun kurulması,
- Medreselerin açılması,

gelişmelerine göre aşağıdaki ifadelerden hangisine ulaşamaz?

- A) Fetih hareketlerinin hızlanması amaçlanmıştır.
B) Eğitim seviyesi yükseltilmeye çalışılmıştır.
C) Devlet işlerinin yürütülmesinde danışmaya önem verilmiştir.
D) Ülkede hoşgörü ortamı oluşturulmaya önem çalışılmıştır.

13. XIV. Yüzyılda Bizans imparatorluğunda iç karışıklıklar artmıştır. Kantakuzen imparator olabilmek ve siyasi nüfuzunu güçlendirmek için Orhan Bey'den yardım istemişti. Bunun üzerine Orhan bey oğlu Süleyman Paşa komutasındaki Osmanlı Ordusunu Kantakuze'nin taht kavgalarında ve Balkan milliyetleriyle olan mücadelesinde desteklemek için yardım göndermiştir.

Bu bilgilere dayanarak aşağıdakilerden hangisi söylenemez?

- A) Osmanlı Ordusu Rumeli topraklarını tanıma imkanı bulmuştur.
- B) Bizans İmparatorluğundaki çıkar çatışmalarından yararlanılmıştır.
- C) Bizans ile Osmanlı Devleti arasında barış anlaşması yapılmıştır.
- D) Bizans'taki taht kavgaları Osmanlı Devletini siyasal açıdan güçlendirmişti.

14. Tarihte I. Murat Döneminde;

- Rumeli Beylerbeyliği kuruldu.
- Kazaskerlik, vezir-i azamlık ve defterdarlık gibi yeni birimler kurularak Divan Teşkilatı genişletildi.
- Tımar sistemi uygulanmaya başlandı.

Bu çalışmalar öncelikle aşağıdakilerden hangisine yönelik yapılmıştır.

- A) Ticaretin genişletilmesine
- B) Sınırların genişletilmesine
- C) Devletin teşkilatlandırılmasına
- D) Merkezi Yönetimin güçlendirilmesine

15. I. Mehmet (Çelebi) döneminde; Şeyh Bedrettin ve Mustafa Çelebi ayaklanmalarının çıkması aşağıdakilerden hangisine kanıt olabilir?

- A) Devşirme sisteminin yaygınlaştığına
- B) Merkezi otoritenin zayıfladığına
- C) Fetnet devrinin sona erdiğine
- D) Anadolu'daki fetihlere ağırlık verildiğine

16. Deniz Coğrafyası alanında önemli bir yeri olan Kitab-ı Bahriye kimin eseridir?

- A) Piri Reis
- B) Seydi Ali Reis
- C) Katip Çelebi
- D) Turgut Reis

17. Osmanlı Devleti ile Timur Devlet arasında 1402 yılında Ankara Savaşı yapıldı. Timur Savaştan sonra;

- Osmanlı topraklarını Yıldırım Beyazıt'ın dört oğlu arasında paylaştırdı.
- Anadolu Beylerine eski topraklarını vererek beyliklerin yeniden kurulmasını sağladı.

Timur'un Ankara Savaşı'ndan sonra böyle davranmasının temel nedeni nedir?

- A) Anadolu halkının desteğini kazanmak istemesi
- B) Yıldırım Beyazıt'ın oğullarının savaşta Timur'u desteklemesi
- C) Parçalanmış ve kendi egemenliğine dayalı devletler oluşturmak istemesi
- D) Anadolu'daki Türk beyliklerinin bağımsız bir şekilde hareket etmesini istemesi

18. Selçuklular zamanında devlet içinde bir takım küçük beylikler halinde yaşayan Atabeylikler vardı.

Osmanlı zamanında böyle bir kurumun olmayışı aşağıdakilerden hangisi ile açıklanabilir.

- A) Hakimiyetin tek elde toplanarak merkezi otoritenin güçlü tutulması
- B) Beyliklerin Osmanlı Devletine bağlanması
- C) Devletin, hükümdar ve soyundan gelenlerin ortak malı olması
- D) Osmanlı Devlet örgütünde Bizans'ın örnek alınması.

19. İstanbul'un fethinden sonra Fatih aşağıdaki saraylardan hangisini yaptırmıştır?

- A) Beylerbeyi Sarayı B) Topkapı Sarayı C) Dolmabahçe Sarayı D) Çırağan Sarayı

20. İstanbul'un fethi için;

- Dört yüz parçalık donanma kuruldu.
- Anadolu Hisarı'nın karşısına Rumeli Hisarı yapıldı.
- Bizans'ın elinden Silivri ve Vize kaleleri alındı.
- Tekerlekli kuleler yapıldı.

İstanbul'un fethi için yapılan bu hazırlıkların aşağıdakilerden hangisini gerçekleştirmeye yönelik olduğu söylenemez?

- A) Bizans'a gelebilecek yardımları önlemeye
- B) İstanbul'u hem denizden hem kardan kuşatmaya
- C) İstanbul surlarına olabildiğince yaklaşmaya
- D) Bizans'a karşı Anadolu Beyliklerinden yardım almaya

Not: Soruların yanıtlarını "Optik Yanıt Formu" na doğru işaretlediğinizi kontrol ettikten sonra formu teslim ediniz.